

四年級華夏盃模擬考試 工作紙

【點連線段】

1. 下圖的點一共可以連出多少條線段？

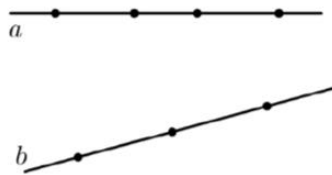


【練一練】 下圖的點一共可以連出多少條線段？



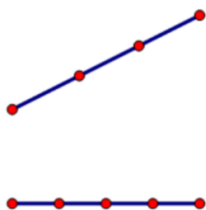
【點連三角形】

18) 如圖，在直線 a 上有四個點，在直線 b 上有三個點，以這些點為頂點，可以畫出多少個三角形？

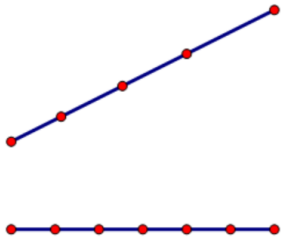


第 18 題

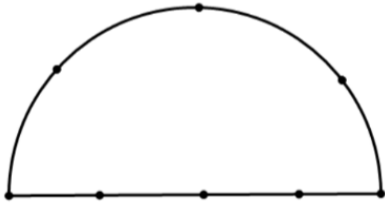
【練一練】 下圖的點一共可以連出多少個三角形？



【再練一練】下圖的點一共可以連出多少個三角形？

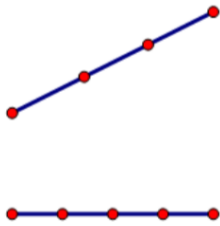


【拓展】下圖的點一共可以連出多少個三角形？

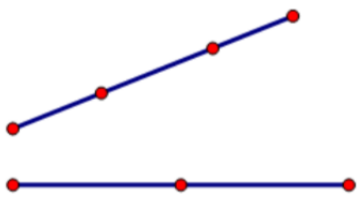


【點連四邊形】

2. 下圖的點一共可以連出多少個四邊形？



【練一練】下圖的點一共可以連出多少個四邊形？



【拓展】下圖的點一共可以連出多少個四邊形？

