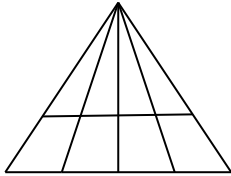


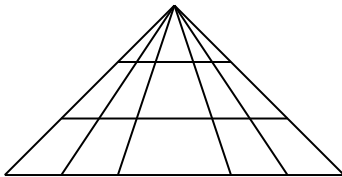
四年級抗疫加油站練習 8

圖形計數

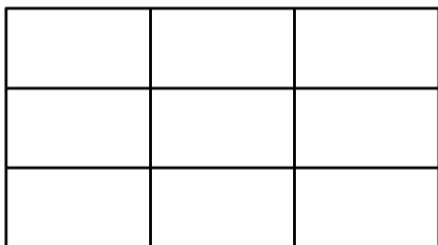
1) 如圖所示，圖中有多少個三角形？



2) 如圖所示，圖中有多少個三角形？



3) 如圖所示，圖中有多少個長方形？



答案：

20；

45；

36°。