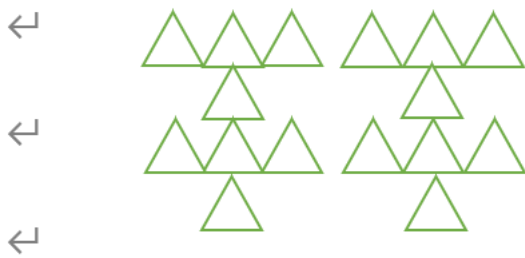



一年級抗疫加油站練習 6

圖形計算

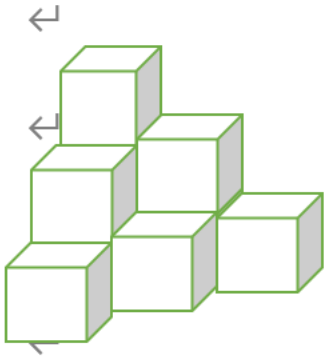
1. 參考附圖，數一數有多少個  $\triangle$ ?  $\leftarrow$



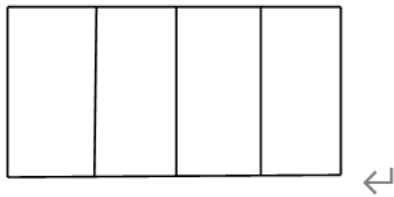
2. 參考附圖，數一數有多少個 😊?  $\leftarrow$



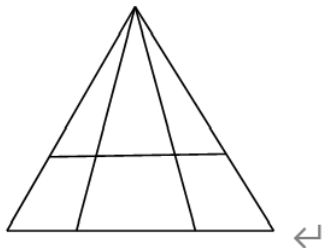
3. 下圖中共有多少個正方體？←



4. 下圖中有多少個長方形？←

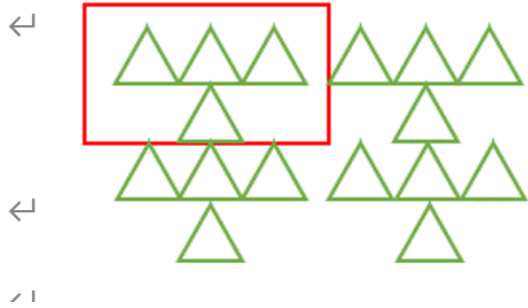


5. 下圖中有多少個三角形？（精英挑戰）←




1. 答案：16

解析：4 個一組，有 4 組，共  $4+4+4+4=16$  個。



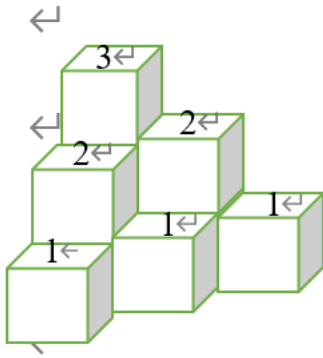
2. 答案：25

解析：5 個一組，有 5 組， $5+5+5+5+5=25$  個。



3. 答案：10

解析：3+2+2+1+1+1=10個。



4. 答案：10個

解析：4+3+2+1=10個。

5. 答案：12個

解析：3+2+1+3+2+1=12個